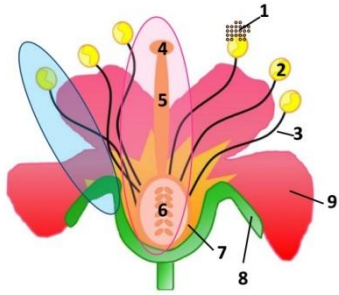


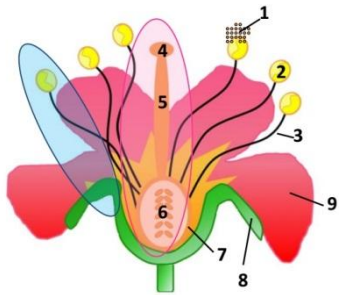
Nombre de fantasía Ovules- de óvulos

Identificar la parte y la función de # 1.



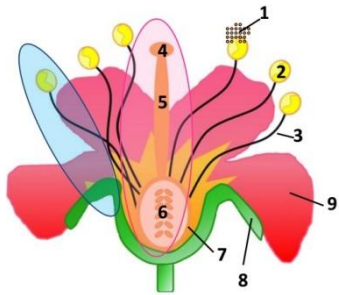
Ovario de la parte del pistilo que contiene las células huevos

Identificar la parte y la función de # 2.



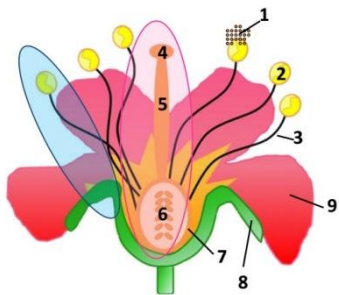
Sepal- la parte de la flor que protege la raíz antes de las floraciones de la flor

Identificar la parte y la función de # 3.



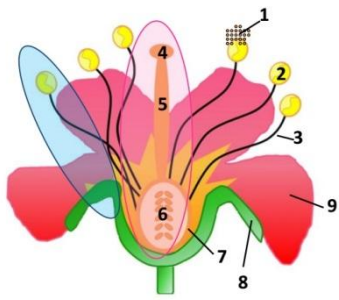
Petals- la parte colorida, aromática de una flor que atrae a los polinizadores como las abejas y las mariposas.

Identificar la parte y la función de # 4.



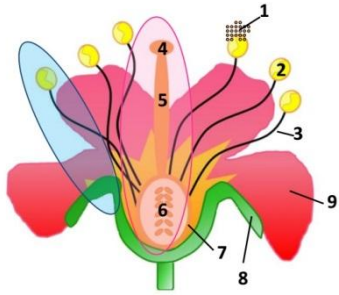
4-6 representa el pistilo  
2-3 representa el Estambre

Identificar la parte y la función de # 5.



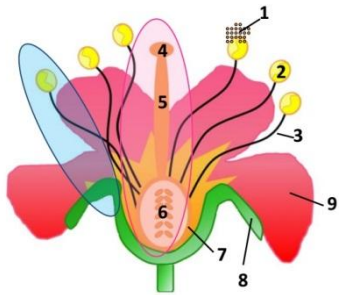
Identificar la parte y la función de #6.

Polen las células reproductoras masculinas de las plantas (espermatozoides)



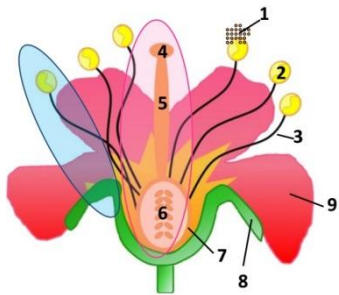
Identificar la parte y la función de # 7.

Anther- la parte del estambre que produce polen



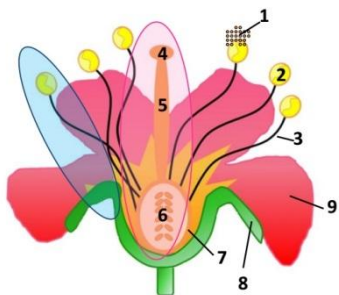
Identificar la parte y la función de # 8.

Filament- la parte del estambre que soporta la antera



Identificar la parte y la función de # 9.

Estigma la parte del pistilo que es pegajoso y atrapa el polen



¿Cuál es el nombre para la parte que representa 4, 5, y 6? Nombre para la parte que representa 2 y 3?

STYLE- la parte del pistilo que soporta el estigma